


CUMHURİYET BAYRAMI

Mustafa Kemal'in Samsun'a çıkması ile Kurtuluş Savaşı başladı. Yurdumuzdan düşmanları kovduk. 29 Ekim de Cumhuriyeti ilan ettik. Bu yıl cumhuriyetin 97. Yılı'nı kutlayacağız. Atalarımız bu güzel yurdu bizlere armağan etmişlerdir. Atalarımızın bizlerden tek isteği cumhuriyetimizi her zaman koruyup geliştirmemizdir. Bunu için de çok çalışıp Türkiye Cumhuriyeti'nin adını başarılarla yükseltmek olacaktır. Bu önemli görev de gelecekte bu ülkenin yönetiminde söz sahibi olacak olan çocuklarımıza düşmektedir.



(Yukarıdaki metin Hayat Bilgisi defterine el yazısı ile yazılacak.)

Soru 1) Mustafa Kemal'in nereye çıkması ile İstiklal savaşı başladı ?

.....

Soru 2) Yurdumuzdan kimleri kovduk ?

.....

Soru 3) Cumhuriyeti ne zaman ilan ettik ?

.....

Soru 4) Bu yıl Cumhuriyetin kaçınıcı yılını kutlayacağız ?

.....

Soru 5) Bu güzel yurdu bize kim armağan etmiş ?

.....

Soru 6) Atalarımızın bizden tek istediği şey nedir ?

.....

Soru 7) Metnin başlığını aşağıya yazınız.

.....

Soru 8) Kurtuluş Savaşı ne zaman başladı ?

.....

CUMHURİYET BAYRAMI ETKİNLİĞİ

tören

halk

Atatürk

cumhurbaşkanı

haklar

yönetme

coşku

cumhuriyet

milli

29 Ekim

Aşağıdaki cümlelerdeki boş yerlere yukarıdaki uygun kelimeleri yerleştiriniz.

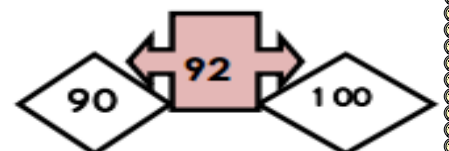
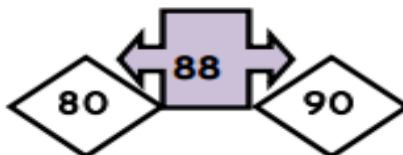
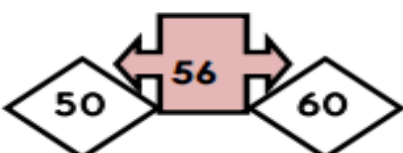
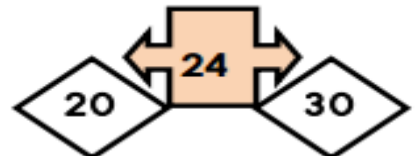
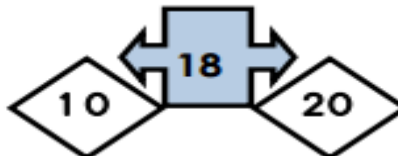
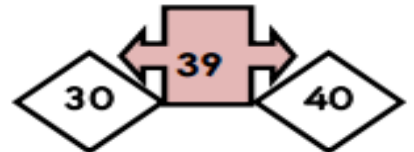
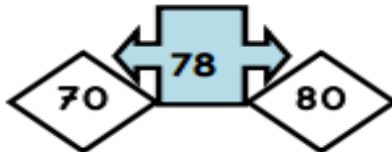
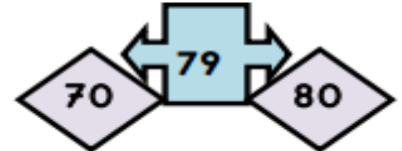
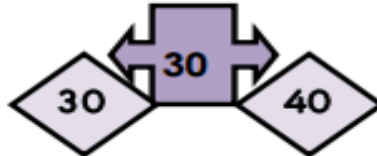
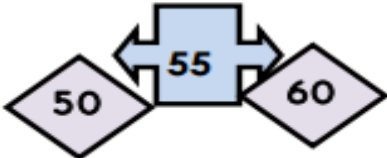
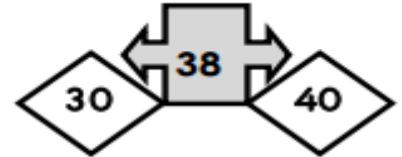
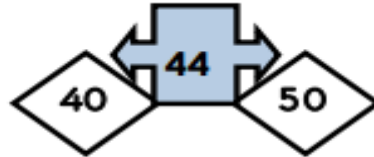
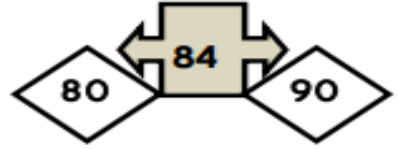
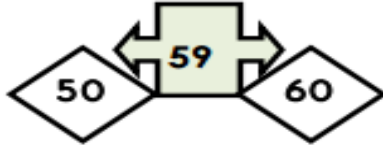
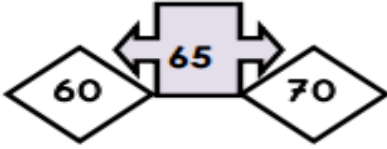
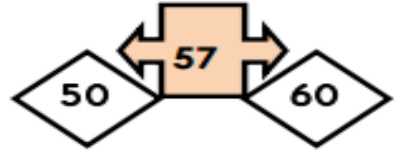
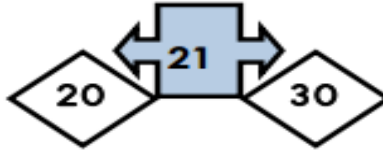
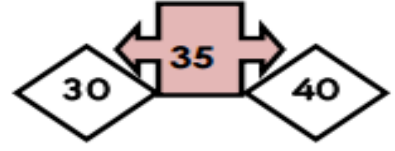
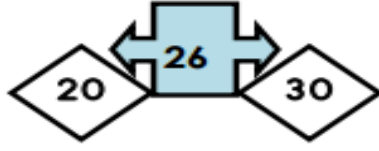
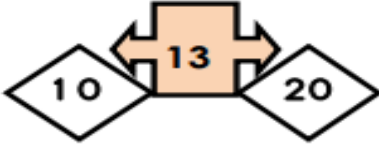
- 1.) Cumhuriyet,tarhinde ilan edildi.
- 2.) Cumhuriyet, halkın kendi kendinişeklidir.
- 3.) Cumhuriyetle beraber yenielde ettik.
- 4.) Cumhuriyette halkı yönetecek kişileriseçer.
- 5.) Cumhuriyeti.....ilan etti.
- 6.) Cumhuriyet Bayramını okullarda büyük birile kutlarız.
- 7.) İlkMustafa Kemal Atatürk'tür.
- 8.) Her 29 Ekimibayramı olarak kutlarız.
- 9.) Cumhuriyet Bayramı.....bayramlarımızdandır.
- 10.) Cumhuriyet Bayramlarında okullardayapılır.

Aşağıdaki cümlelerden doğru olanların başına D, yanlış olanlara Y koyunuz.

1. (.....) Cumhuriyeti Mustafa Kemal Atatürk ilan etti.
2. (.....) Cumhuriyetten önce krallık vardı.
3. (.....) Padişahı halk kendisi seçiyordu.
4. (.....) Cumhuriyet ile birlikte bir çok haklar kazandık.
5. (.....) Cumhuriyette belli kişilerin dediği olur.
6. (.....) Cumhuriyet Bayramı dini bayramlarımızdandır.
7. (.....) Cumhuriyetimiz 97 yaşındadır.
8. (.....) Cumhuriyet Bayramını okullarda coşku ile kutlarız.
9. (.....) Cumhuriyet, 29 Ekim 1923'de ilan edildi.
10. (.....) Cumhuriyet, halkın kendi kendini yönetme biçimidir.

BİRLER BASAMAĞINI ,EN YAKIN ONLUĞA YUVARLAMA ETKİNLİĞİ

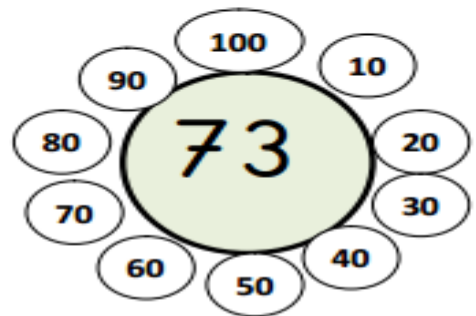
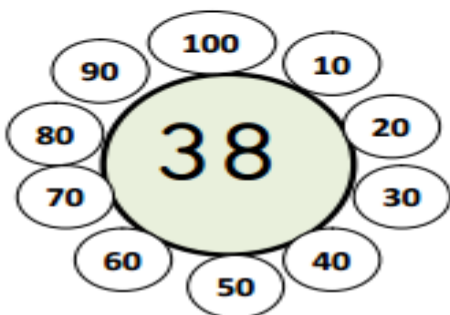
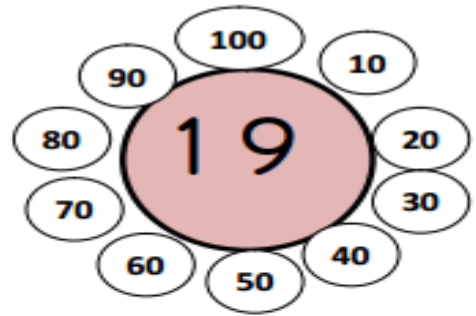
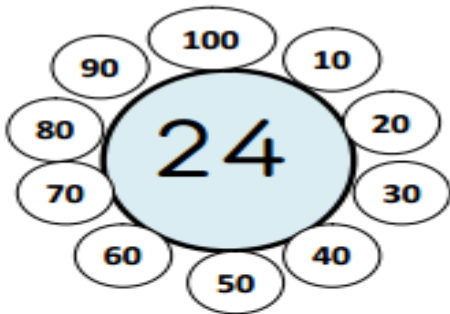
- ❖ Birler basamağında 1,2,3,4 olan doğal sayılar **bir önceki** onluğa,
- ❖ Birler basamağında 5,6,7,8 ve 9 olan doğal sayılar **bir sonraki onluğa** daha yakındır.
- ❖ Birler basamağı 0 ise sayıyı **yuvarlamamıza gerek yoktur.**
- ❖ Birler basamağı 5 ise **üstteki onluğa** yuvarlanır.



Aşağıda verilen doğal sayıların hangi onluğa yakın olduklarını örneğe uygun olarak yazınız.

26	→	30
54		
35		
46		
12		
46		
76		
39		
68		
57		

26	→	30
54		
35		
46		
12		
46		
76		
39		
68		
57		



En yakın onluğa yuvarlama

Birlik sayısı 5 ve 5'en büyük olan sayıları, bir sonraki onluğa yuvarlarız. Birlik sayısı 5'ten küçük olan sayıların onluk sayısını deęiřtirmeyiz.

Ařaęıdaki sayı doęrusunu inceleyiniz. Sayıların hangi onluęa yuvarlandığına dikkat ediniz.

1) Ařaęıdaki Doęal Sayıları En Yakın Onluęa Yuvarlayınız

28	55	81	47	44	72	16

2) Ařaęıdaki doęal sayıları en yakın olduęu onluęa yuvarlayınız

19	20	33	27	56
----	----	----	----	----

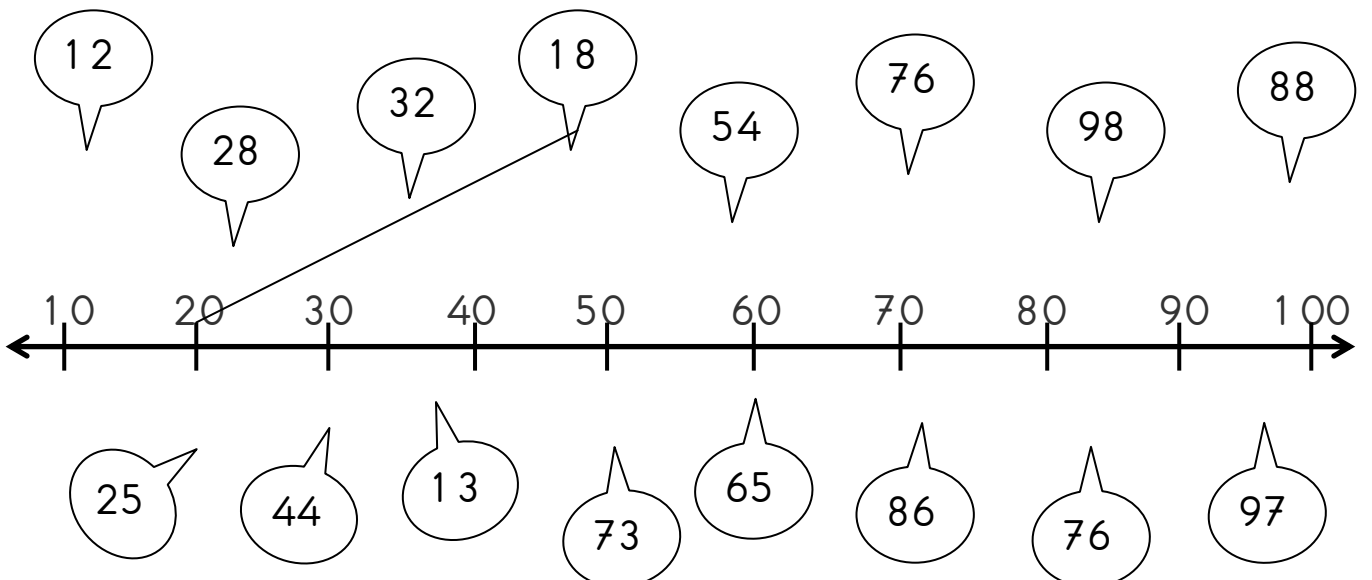
3) Ařaęıdaki sayıları en yakın olduęu onluęa yuvarlayınız

18	12	29	32	47
52	17	23	38	53
39	21	72	43	44

4) Ařaęıdaki sayıların hangi onluęa daha yakın olduklarını bulup aynı renge boyayın.

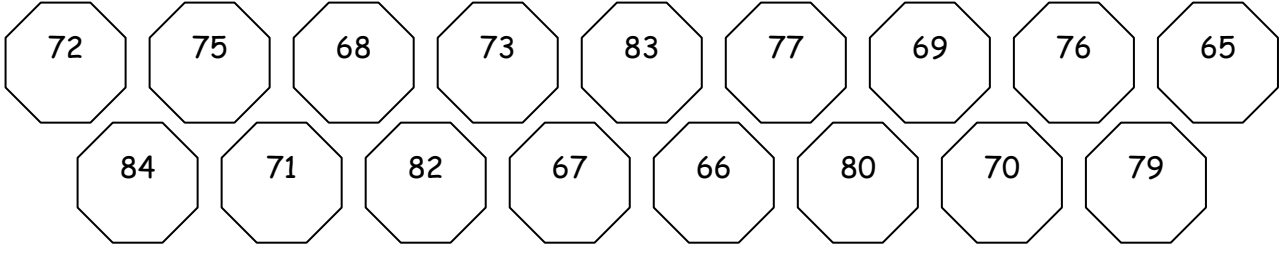
62	75	17	21	39					
60	70	70	80	10	20	20	30	30	40
44	83	56	98	42					
40	50	80	90	50	60	90	100	40	50

5- Ařaęıdaki balonları, üzerindeki sayıların en yakın oldukları onluęa baęlayın.



ONLUĞA YUVARLAMA

Aşağıdaki sayılardan 70' e yuvarlanan sayıları maviye, 80' e yuvarlanan sayıları yeşile boyayalım.



Aşağıdaki sayıları en yakın onluğa yuvarlayalım.

69	75	71
25	19	88
38	21	82
41	47	39

Aşağıdaki sayılardan 40 yuvarlanabilen sayıları daire içine alalım.

67 54 42 39 95 34 35
43 51 86 46 15 42 36
38 46 43 31 36 38 83
51 40 52 44 39 37 48

Aşağıdaki sayıları en yakın onluklarla eşleştirelim.

69	80	69
83	70	53
27	60	34
59	50	75
42	40	63
75	30	