

TÜRKÇE TEST

ÇİFTLİKTE HAYAT

Çilli horoz her sabah Güneş doğmadan öterdi. Çiftlikteki tüm hayvanlar horozun sesiyle uyanırdı. Sadece tembel ördek Vakvak uyanmazdı. Vakvak, sağır olduğu için horozun sesini duyamıyordu. Onun için geç uyanıyordu. Vakvakın sağır olduğunu doktor Gulu gulu hindi söylemişti. Gulu gulu hindi yanında sürekli kitap taşırdı. Gululu hindi çok bilgiliydi.

1) Çilli horoz ne zaman ötermiş?

- a) Uyandığı zaman b) Güneş doğmadan
c) Güneş doğunca

2) Çilli horoz kimi uyandırır mı?

- a) Gulugulu hindiyi b) Bütün hayvanları
c) Vakvak ördek

3) Vakvak ördek neden uyanamaz mı?

- a) Duymadığı için b) Gece geç yattığı için
c) uyku hapi içtiği için

4) Vakvak'ın sağır olduğunu kim söylemiş?

- a) Çilli horoz b) Veteriner c) Gulugulu hindi

5) Sürekli yanında kitap taşıyan bilgili hayvan hangisidir?

- a) Çilli horoz b) Baykuş c) Gulugulu hindi

6) Aşağıdakilerden hangisi Vakvak ördeğin bir özelliği değildir?

- a) Çok Bilgili b) Tembel c) Sağır

7) Türk abecesinde kaç harf vardır?

- A. 8 B. 29 C. 21

8) Ünlü harf sayısı en fazla olan sözcük aşağıdakilerden hangisidir?

- A. kanat B. Nevşehir C. uygulama

9) Aşağıdaki sözcüklerden hangisinin hece sayısı en fazladır?

- A. Türk B. mertçe C. kitapçı

10) Aşağıdaki seçeneklerden hangisinde ünlü harflerin tamamı vardır?

- A) a, e, ı, i, j, k, ö, u, ü B) a, b, c, ç, d, e, f, g
C) a, e, ı, i, o, ö, u, ü

11) Aşağıdaki sözcüklerden hangisinin yazımı yanlıştır?

- A. yalnız B. yanlış C. tırafık

12) “İnsan ilişkilerinde nefretin yeri yoktur.” tümcesi kaç kelimedenden oluşmaktadır?

- A) 3 B) 4 C) 5

13) Konuşmalarımızda ve okuduklarımızda anlayamadığımız kelimelerin anlamlarını nereden öğreniriz?

- A) sözlük B) yazım kılavuzu C) dergi

14) “*berrak*” kelimesinin karşıt anlamlısı aşağıdakilerden hangisidir?

- A) duru B) bulanık C) kirli

15) Aşağıdaki kelimelerden hangisi bir yönüyle diğerlerinden farklıdır?

- A) beğenmek B) hoşlanmak C) kötölemek

16) Aşağıdaki sözcüklerden hangisi sözlükte en önce gelir?

- A) diploma B) diplomatik C) direk

17) Aşağıdakilerden hangisi bir yönüyle diğerlerinden farklıdır?

- A) doktor-hekim B) okul-mektep C) kibar-kaba

18) “Kış-yaz” sözcükleri arasındaki benzer anlam ilişkisi aşağıdaki kelime çiftlerinden hangisi arasında vardır?

- A. hekim-doktor B. yeni-eski C. iri-büyük

19) Aşağıdaki cümlelerin hangisinde zıt anlamlı sözcükler birlikte kullanılmıştır?

- A. Aç tokun halinden anlamaz.
B. Sakla samanı gelir zamanı.
C. Körle yatan şaşı kalkar.

20) Türkçe sözcükler hangi harfle başlamaz?

- a) H b) J c) Ğ

21) Alfabemizin 10. harfiyle başlayan sözcük hangisidir?

- a) gül b) herkes c) İzmir

22) Aşağıdaki sözcüklerden hangisi hecelerine doğru ayrılmıştır?

- A. ara-ba-cı B. ki -tapç -ı C. buz -do -la -bı

23) Aşağıdaki eşleştirmelerden hangisi diğerlerinden farklıdır?

- A. sonbahar-güz B. hastalık-sağlık
C. Ulus-millet

24) Hangi kelimenin birden çok anlamı vardır?

- A. baş B. dur C. Sehpa

25)Cümle en az kaç kelimedenden oluşur?

A.4 B.1 C. 2

26)Aşağıdakilerden hangisi hem harf hem de hecedir?

A. a B. la C. dut

27)Aşağıdaki kelimelerden hangisi sözlükte ilk sırada yer alır?

A. şişe B. tabak C. çatal

28)Aşağıdakilerden hangisinin tek başına anlamı yoktur?

A. pencere B. saksı C. fakat

29)Aşağıdaki eşleştirmelerden hangisi diğerlerinden farklıdır?

A. tavuk-yumurta B. arı-bal C. at-ot

30) “Güzel ile çirkin” arasında bir anlam ilişkisi vardır. “soğuk” ile aşağıdaki hangi sözcük arasında benzer bir ilişki vardır?

A. kar B. sıcak C. ılık

31)Hekim sözcüğünün eş anlamlısı aşağıdakilerden hangisidir?

A. hemşire B. hastahane C. Doktor

32)Hangi noktalama işareti cümlelerin sonuna konulmaz?

A.nokta(.) B.ünlem işareti(!) C. virgül (,)

33)Aşağıdakilerden hangisi birden fazla varlığı anlatmaktadır?

A) kalem B)defterler C) okul

34)Aşağıdakilerden kelimelerden hangisinin hecelerine ayrılışı doğrudur?

A) 1s- pan -ak B)dom-a-tes C) p1-ra-sa

35)Aşağıdakilerden hangisi alfabemizin üçüncü harfidir?

A) A B) B C) C

36)Aşağıdaki tümcelerden hangisinde yazım yanlışı vardır?

A)Ali, ilkokul birinci sınıfa gidiyor.
B) Bahçedeki çiçekleri suladık.
C) Annemle Karabüke gittik.

37)Aşağıdakilerden hangisi hayvanlardan elde edilen besinlerden değildir?

A) Çay B) Süt C) Peynir

38)Aşağıdaki tümcelerden hangisinin sonuna soru işareti(?) getirilmelidir?

A) Ben de geliyorum. B) Nereye gidiyorsun
C) Ödevlerimi bitirdim.

39)Aşağıdakilerden hangisi tek bir varlığı anlatmaktadır?

A) Ağaç B)Evler C) Kuşlar

40) “ Kardeşime oyuncak bebek aldım” cümlesindeki hangi sözcük yapılan işi anlatmaktadır?

A) kardeşime B) aldım C) bebek

41)Aşağıdaki noktalama işaretlerinden hangisi cümlelerin bittiğini gösterir?

A) virgül B)kesme işareti C) nokta

42)Aşağıdaki sözcüklerin hangisinin yazılışı doğrudur?

A) Cumhuriyet B)Selen’ler C) Annem’le

43) “işlerinde, olalım, büyüklerimize, ev, yardımcı” sözcüklerinden anlamlı bir tümce oluşturduğumuz zaman hangi sözcük en sonda yer alır?

A. olalım B. yardımcı C. işlerinde

44) Aşağıdaki cümlelerde boş bırakılan yerlere uygun sözcükler yazınız.

Yedi—mavi—yüksek--bir bardak--ütülü

Annem pazardan banaelbise aldı.
..... gömleğini dolaba astı.

Ben her sabah süt içerim.

Toplantıda en az kişi vardı.

Müziği sesle dinlersek,

komşularımız rahatsız olur.

45) Yanlış yazılmış sözcüklerin altını çiziniz.

evimizi bobi bekliyor.

Bugün sinemaya gidelimmi

hasandan nasıl özür dileyeceğim.

esranın kardeşi anaokuluna gidiyor.

dün dolmabahçe sarayına gittik.

Burçininde babası okula gelmiş.

Konu: Standart Ölçü Birimleri (Metre, Santimetre)Etkinliđi

Ařađıdaki gorsellerde verilen standart uzunluk ölçme araçlarının adlarını yazınız.



.....

.....

.....

.....

Ařađıdaki cetvellerle ölçülmüş kalemlerin ölçüm sonuçlarını noktalı yerlere yazalım.



1)



.....



2)



.....



3)



.....



4)



.....



5)

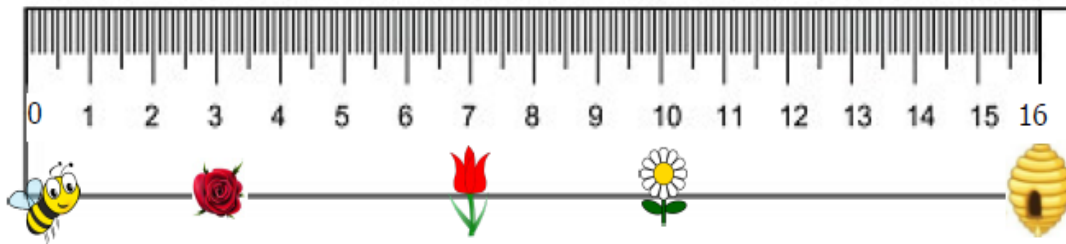


.....

Aşağıdaki görsellerin metre ile ölçülenlerinin kutucuklarını maviye, santimetre ile ölçülenlerini yeşile boyayınız.



Aşağıdaki soruları cetvel üzerindeki varlıklara konumuna göre cevaplayınız.




- Yukarıdaki cetvel kaç santimetre uzunluğundadır?
- Arının boyu kaç santimetredir?
- Arının güle ulaşması için kaç santimetre uçuşması gerekir?
- Arının laleye ulaşması için kaç santimetre uçuşması gerekir?
- Arının papatyaya ulaşması için kaç santimetre uçuşması gerekir?
- Arının kovana ulaşması için kaç santimetre uçuşması gerekir?

Konu: Standart Ölçü Birimleri (Metre, Santimetre) Etkinliği 2

Aşağıdaki uzunluk ölçme araçları ile isimleri eşleştiriniz.



Mezura



Şerit metre



Cetvel



Kırık metre

Görsellerde verilen kişiler hangi standart ölçme araçlarını kullanır? Altlarına yazınız.



Terzi

.....



Öğrenci

.....



Mühendis

.....



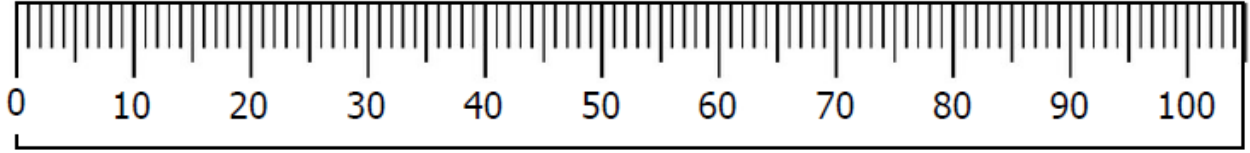
Marangoz

.....

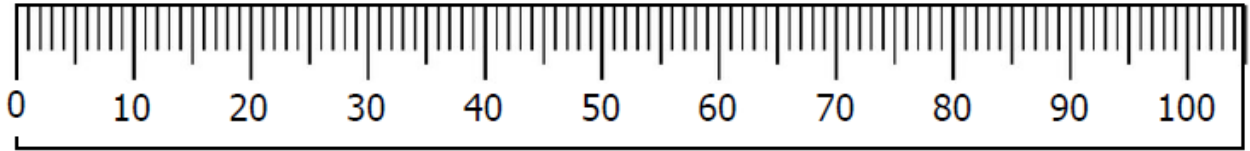
Aşağıdaki görselleri verilen nesnelerin metre ile ölçülenlerinin kutularını maviye, santimetre ile ölçülenlerin kutularına sarıya boyayınız.



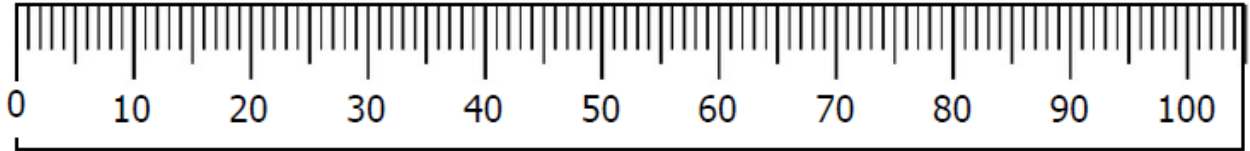
Aşağıdaki görsellerde verilen hayvanların yiyeceklere ulaşması için kaç santimetre ilerlemeleri gerektiğini altlarındaki noktali yerlere yazınız.



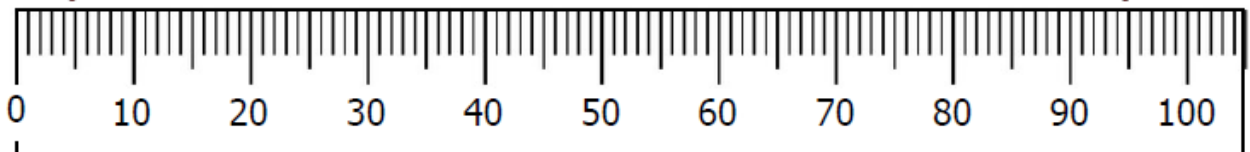
..... santimetre



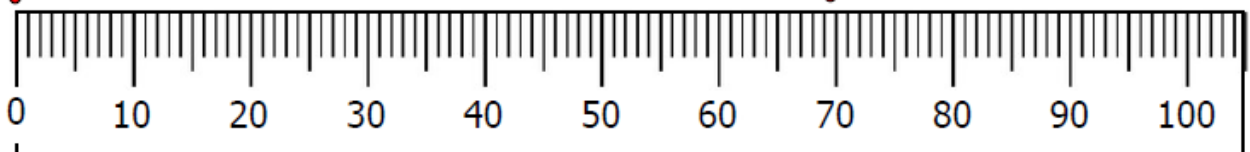
..... santimetre



..... santimetre



..... santimetre



..... santimetre